

JUSTIFICACIÓN:

La evaluación extraordinaria de este curso 2019-2020 se basa en la recuperación de los contenidos de la primera y segunda evaluación únicamente. Esto se debe a las circunstancias especiales producidas por la pandemia del COVID-19, que tuvo como consecuencia fundamental el cierre de los centros educativos).

El cierre de centros hizo que el proceso de enseñanza aprendizaje se realizara de manera online. Con el objetivo de ajustarnos a la realidad y basándonos en la instrucciones recibidas, la docencia online se centra en el repaso de los contenidos de la primera y segunda evaluación. El objetivo es evaluar lo que se aprende y no lo que se deja de aprender como dejan claro las instrucciones recibidas a este respecto.

Por todo ello este cuadernillo pretende la recuperación de la materia de:

GEOGRAFÍA E HISTORIA DE 3º DE LA ESO.

INSTRUCCIONES:

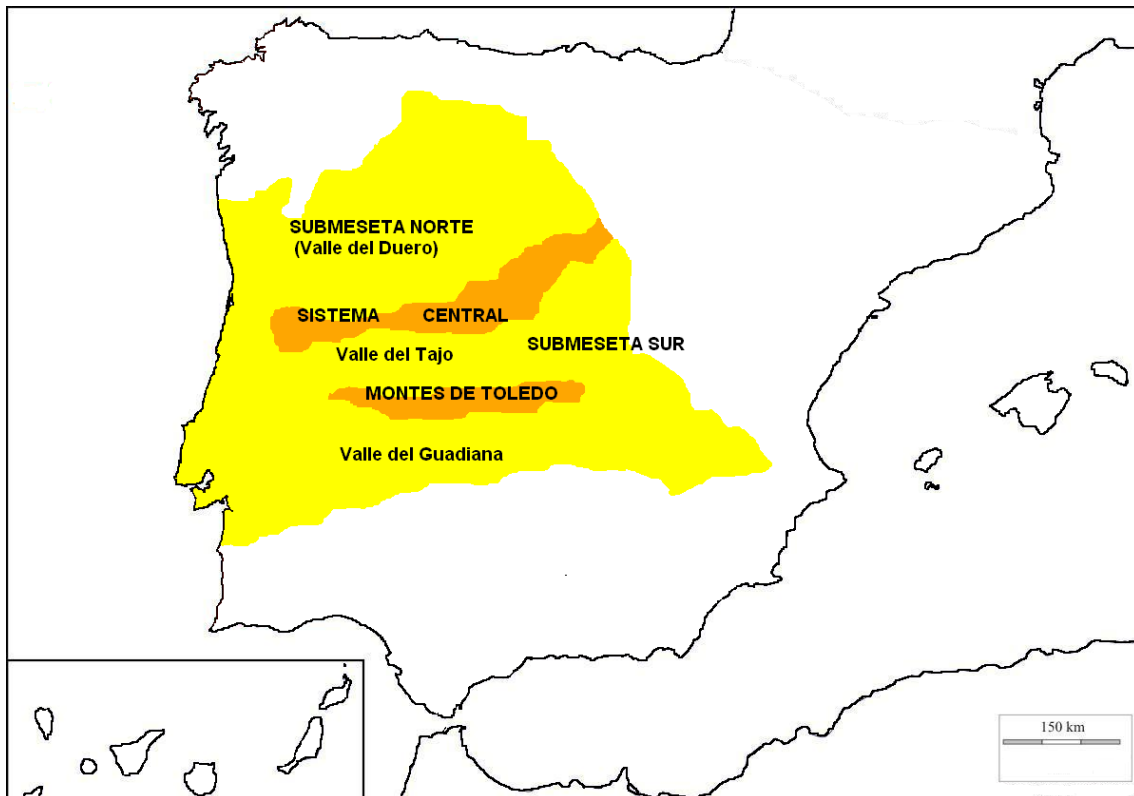
1. Este cuadernillo recoge las actividades con las que se puede recuperar la asignatura de Geografía e Historia de tercero.
2. Recuerda que no es necesario copiar la teoría y que solo hay que realizar las actividades propuestas. Estas actividades las puedes hacer en el cuadernillo para entregarlas. Lee atentamente la teoría y realiza **todas** las actividades.
3. Este cuadernillo es el último esfuerzo y la última oportunidad, debéis aprovecharla. Tenéis hasta el viernes 19 de junio para entregarlo. También lo podéis enviar por correo, haciendo las actividades en vuestro cuaderno y mandando las fotos al correo tareas3esoentreculturas@gmail.com
4. Este cuadernillo lo podéis recoger impreso el viernes 5 en el instituto. El horario de recogida es de 10:00 a 11:00 h, y entregarlo el 19 de junio de 10:00 a 13:00 horas.
5. Si tenéis dudas Estaremos a disposición para atención de dudas en el centro, **BAJO PETICIÓN DEL ALUMNADO CON ANTELACIÓN** y según horario que se les entregará con los cuadernillos el viernes. **No olvidéis que tenéis que llevar mascarilla si vais al instituto.**

EL RELIEVE DE ESPAÑA

Casi la mitad de la península Ibérica está ocupada por la Meseta Central, que presenta una elevada altitud. Alrededor de la Meseta se sitúan los sistemas montañosos de la Península:

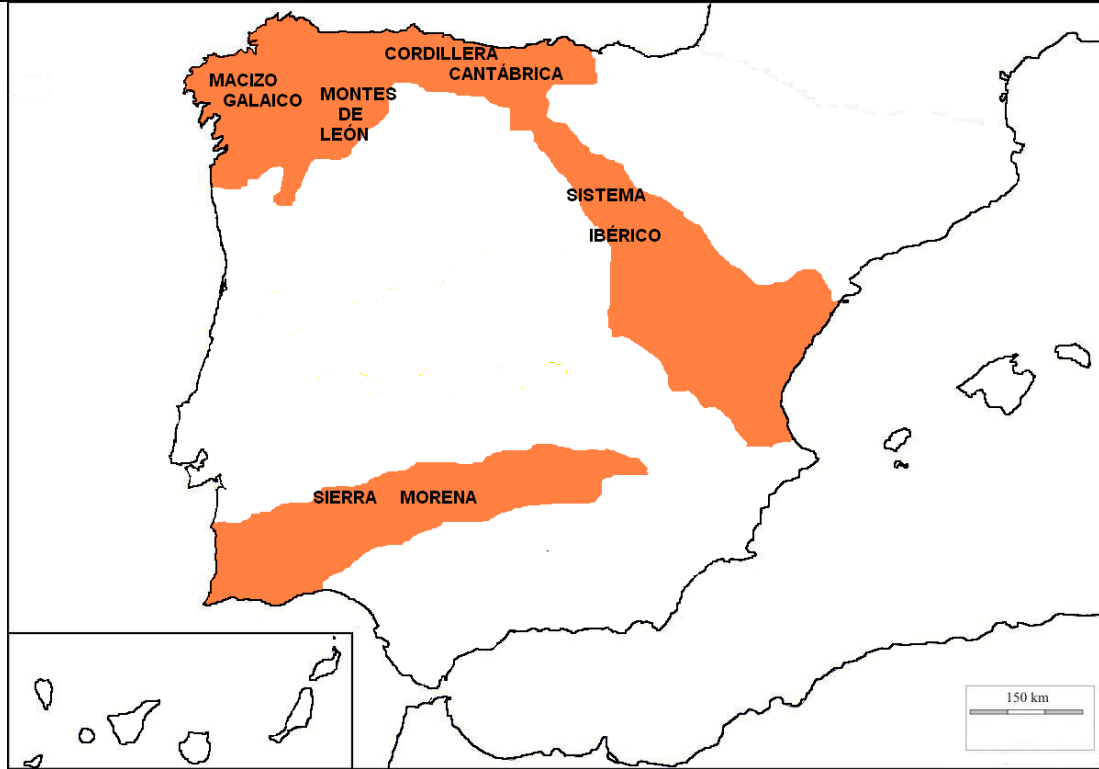
1. Meseta Central:

Meseta Central dividida en dos: Submeseta Norte (cuenca del Duero) y Submeseta Sur (cuencas del Tajo y el Guadiana) (en amarillo en el mapa anterior).



2. Cordilleras y sistemas dentro de la Meseta: Sistema Central (la divisoria entre submesetas) y Montes de Toledo (en naranja en el mapa anterior).
3. Cordilleras y sistemas que bordean o rodean la Meseta: Macizo Galaico, Montes de León, Cordillera Cantábrica, Sistema Ibérico y Sierra Morena.

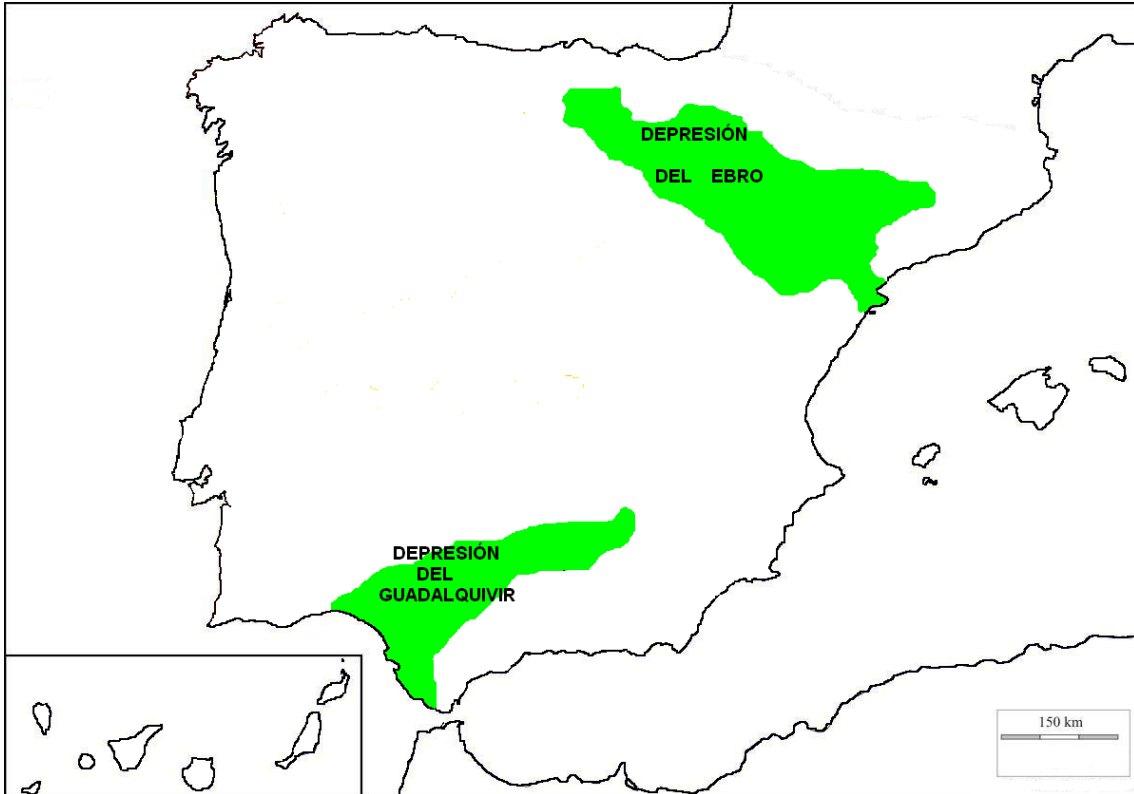
EVALUACIÓN EXTRAORDINARIA



4. Cordilleras exteriores o que se encuentran fuera de la Meseta: Pirineos, Montes Vascos, Cordillera Costero-Catalana y Sistemas Béticos.



5. Depresiones: Depresión del Ebro y Depresión del Guadalquivir.



2. Relieve Insular



A) Islas Baleares:

Archipiélago mediterráneo formado por:

- Mallorca
- Menorca
- Ibiza
- Formentera
- Cabrera.

Su relieve es muy llano excepto, excepto la sierra de Tramuntana, en Mallorca.

B) Islas Canarias:

Archipiélago atlántico formado por un conjunto de islas de origen volcánico (Gran Canaria, Lanzarote, Fuerteventura, Gomera, Hierro, La Palma, Tenerife que es la más grande). Las Islas Canarias se encuentran en una zona donde los fondos marinos son muy profundos, y superan los 2km de profundidad. El paisaje está determinado por su origen volcánico, en especial el Teide (3718m), se encuentra en Tenerife y es la mayor altura de España.

ACTIVIDADES:

1. Responde a las siguientes preguntas:

- ¿Qué montañas rodean la meseta?
.....
- ¿Qué montañas la atraviesan?
.....
- Identifica las unidades exteriores a la Meseta
.....
- ¿Qué islas conforman cada archipiélago?
.....

2. Explica las características más importantes del relieve de cada archipiélago.

.....

.....

.....

.....

LOS CLIMAS Y LOS PAISAJES DE ESPAÑA

España presenta una gran variedad de climas y paisajes, aunque la mayor parte del territorio corresponde al clima mediterráneo. Los **factores** que condicionan el clima español son:

- La mayor parte del territorio se sitúa en **latitudes templadas**, lo que explica la sucesión de las estaciones y la elevada insolación.
- Nuestro país se sitúa entre el continente europeo y el africano y entre dos masas de agua (océano Atlántico y mar Mediterráneo), lo que facilita la entrada de masas de aire frías y cálidas, y de perturbaciones del Atlántico y del Mediterráneo.

- La **influencia del mar** hace que en las costas peninsulares y en los archipiélagos las temperaturas sean suaves y poco contrastadas a lo largo del año.
- El **relieve**. Con la altitud disminuyen las temperaturas y aumentan las precipitaciones. Además, los sistemas montañosos actúan como una muralla que dificulta el paso de las masas de aire.

En España existen diferentes climas y paisajes:

Clima mediterráneo. Ocupa la mayor parte de la Península, las islas Baleares, Ceuta y Melilla. Se distinguen tres subtipos con una característica común: la sequía estival.

- **Típico o de litoral**, con inviernos frescos, veranos cálidos y precipitaciones entre 700 y 300 mm anuales, más abundantes en otoño y primavera.
- **De interior o continentalizado**, con temperaturas extremas: muy bajas en invierno y altas en verano. Las precipitaciones oscilan entre 400 y 600 mm al año.
- **Seco**, con inviernos suaves, veranos calurosos y precipitaciones inferiores a los 300 mm anuales. Hay largos periodos de sequía.

El bosque mediterráneo (encinas y alcornoques) no es muy extenso. La intensa ocupación del suelo ha transformado estos espacios.

Clima oceánico. Se extiende a lo largo de la fachada norte peninsular. Las temperaturas son moderadas (inviernos frescos y veranos suaves), y las precipitaciones son abundantes y regulares (más de 800 mm anuales).

Este es un espacio muy humanizado, en el que el bosque caducifolio de robles y hayas ha sido sustituido, en muchas zonas, por pinares, bosques de eucaliptos y extensos prados para el ganado.

EVALUACIÓN EXTRAORDINARIA



ACTIVIDADES:

Responde a las siguientes preguntas:

1. ¿Qué tipo de clima predomina en España? ¿Cuál es su principal característica?

.....

.....

2. ¿Por dónde se extiende el clima oceánico? ¿Cómo es?

.....

.....

3. ¿Qué clima tiene Canarias? Descríbelo

.....

.....

4. ¿Cómo influye el relieve sobre el clima?

.....

.....

La organización territorial de España

1. La administración local

- **El municipio.** Es la entidad territorial básica del Estado español. El gobierno y la administración municipal corresponden al ayuntamiento, integrado por los concejales, elegidos por los vecinos del municipio por sufragio universal; y el alcalde o alcaldesa, que es elegido por los concejales.
- **La provincia.** Es una entidad territorial formada por una agrupación de municipios. El gobierno y la administración provincial corresponden a la diputación provincial, integrada por diputados, escogidos entre los concejales electos de la provincia; y un presidente o presidenta, elegido por Ceuta y Melilla son ciudades autónomas los diputados.
- En **las islas Baleares y Canarias** cada isla tiene su propia administración. En Baleares la ejercen los consejos insulares, y en Canarias la ejercen los cabildos insulares.

2. La administración autonómica

- **La comunidad autónoma** es una entidad territorial formada por provincias limítrofes o territorios insulares. Su número es de 17, y su capital está en una ciudad de la comunidad; o alterna entre dos ciudades, caso de Canarias. La función de las comunidades es autogobernarse en los asuntos de su competencia. El gobierno autonómico está en manos del Consejo de Gobierno, integrado por un presidente o presidenta y varios consejeros. La elaboración de las leyes corresponde al Parlamento autonómico, elegido por votación cada cuatro años por los habitantes de la comunidad.
- **Tienen competencias** mayores que las de un municipio, pero inferiores a las de una comunidad autónoma.

EVALUACIÓN EXTRAORDINARIA



ACTIVIDADES

- Coloca donde corresponda: a) municipio; b) comunidad autónoma; c) provincia; d) ciudades autónomas; e) archipiélagos.

Administración Local	Administración autonómica

EVALUACIÓN EXTRAORDINARIA

2. Copia los número y escribe a que autonomía o ciudad autónoma corresponden.



- | | |
|----------|----------|
| 1. | 11. |
| 2. | 12. |
| 3. | 13. |
| 4. | 14. |
| 5. | 15. |
| 6. | 16. |
| 7. | 17. |
| 8. | 18. |
| 9. | 19. |
| 10. | |

La población española

1. La población y sus fuentes

La población es el conjunto de habitantes de un territorio.

Para obtener datos sobre la población, los geógrafos recurren a diversas fuentes de información. En España, las más importantes son los censos de población y los padrones municipales.

2. La distribución de la población y sus factores

La distribución de la población en el espacio se analiza a través de la densidad de población. Esta se obtiene dividiendo la población total de un territorio por su superficie, y se expresa en km².

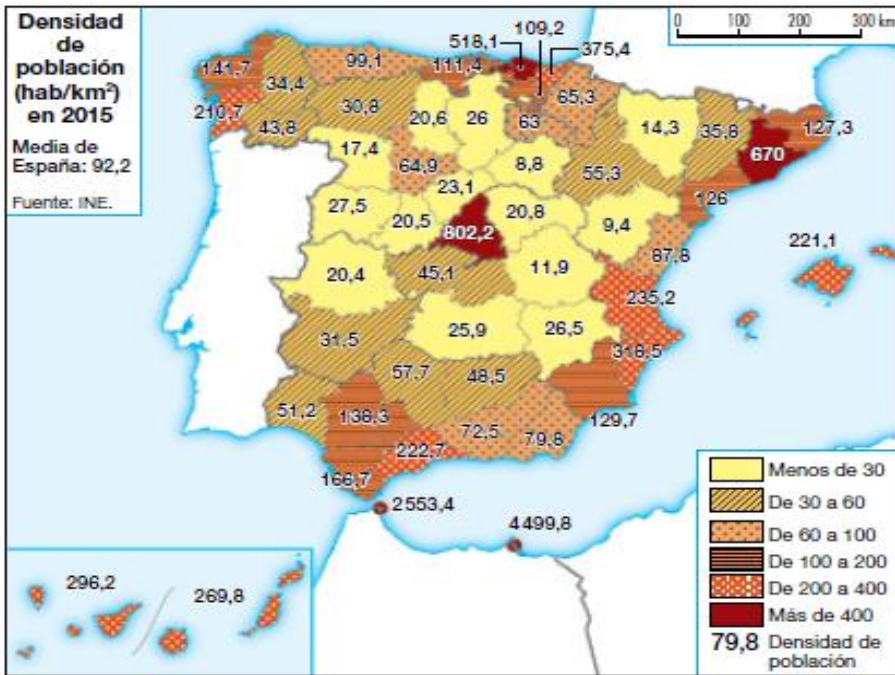
Los factores que explican la distribución de la población en un territorio son físicos y humanos.

- **Los factores físicos** más influyentes son el relieve, el clima y los suelos. Así, la población busca asentarse en las llanuras, y evita los relieves elevados o las pendientes; prefiere los climas templados, y huye de los climas excesivamente fríos o secos; y elige las zonas con suelos fértiles o con subsuelo rico en minerales, y rechaza las zonas con suelos pobres o sin recursos económicos.
- **Los factores humanos** son también diversos: la historia explica las altas densidades de las zonas con poblamiento temprano; la economía concentra a la población junto al recurso principal del que vive: tierras fértiles en las sociedades agrarias, y ciudades en las sociedades industriales y terciarias; algunas decisiones políticas, como la elección de una ciudad como capital, las guerras, o los cambios de fronteras, pueden provocar también vacíos o concentraciones de población.

3. La población española. Concentración y despoblamiento

- Los focos de **concentración** de la población se localizan en Madrid, la periferia peninsular, Baleares, Canarias, Ceuta y Melilla.
- Los focos de **despoblamiento** se localizan en el interior peninsular. También cuentan con densidades muy bajas las áreas de montaña.

EVALUACIÓN EXTRAORDINARIA



Las provincias con densidades más altas son aquellas que han desarrollado actividades más dinámicas y han atraído población nacional o extranjera.

Las provincias con densidades más bajas son aquellas donde han tenido mayor peso las actividades agrarias, las industriales tradicionales y los servicios menos avanzados. Este hecho provocó en el pasado fuertes corrientes migratorias hacia las áreas de economía más dinámica.

ACTIVIDADES

Responde:

- Define población.

.....

- ¿Dónde se localizan los focos de concentración en España?

.....

- ¿Dónde se localizan los focos de despoblamiento?

.....

- ¿Cómo es la densidad de población en las áreas de montaña?

.....

- ¿Cómo es la densidad de población en Ceuta y Melilla?

.....

Los movimientos de la población española

1. El dinamismo demográfico

La población de un país o de un área aumenta o disminuye a lo largo del tiempo debido a la acción combinada de dos movimientos:

- **El movimiento natural.** Es el crecimiento o decrecimiento de la población por causas naturales (la diferencia entre la natalidad y la mortalidad). El balance entre la natalidad y la mortalidad es el crecimiento natural o vegetativo.
- **Los movimientos migratorios.** Son los desplazamientos de la población en el espacio. La inmigración es la llegada de población de otros lugares; y la emigración es la salida de población hacia otras áreas.

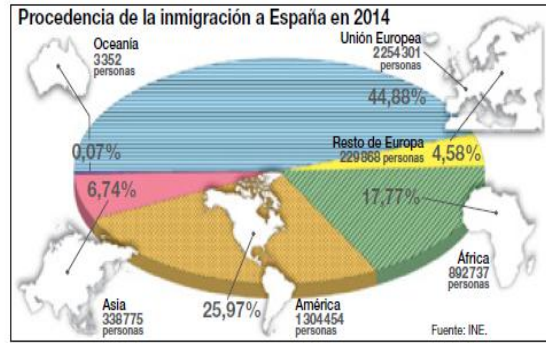
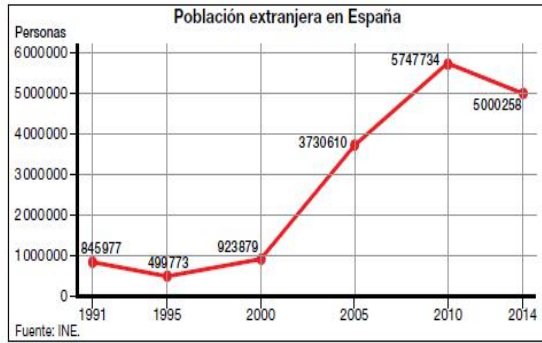
2. El movimiento natural

- El **movimiento natural** de la población española ha pasado por tres etapas a lo largo de la historia, denominadas regímenes demográficos.
- El régimen **demográfico antiguo.** Se mantuvo hasta principios del siglo xx, con un crecimiento natural bajo.
- La **transición demográfica.** Tuvo lugar entre 1900 y 1975. La natalidad descendió lentamente y con altibajos, por el paso progresivo hacia una economía industrial y urbana. La mortalidad, en cambio, descendió muy rápido por la mejora del nivel de vida y los avances médicos y sanitarios.
- **El régimen demográfico moderno.** Se extiende desde la crisis económica de 1975 hasta la actualidad. La tasa de natalidad descendió bruscamente con la inestabilidad laboral, la incorporación de las mujeres al trabajo fuera del hogar, la difusión de anticonceptivos eficaces, el retraso de la maternidad y el deseo de las familias de disponer de más ingresos y tiempo libre. El descenso habría sido aún mayor sin la inmigración, recibida desde 1995, que elevó ligeramente los nacimientos hasta la crisis de 2008. La tasa de mortalidad se sitúa ahora en cifras bajas, gracias a la mejora del nivel de vida, aunque crece ligeramente desde 1981 debido al envejecimiento demográfico. Como consecuencia, el crecimiento natural es muy bajo.

3. Los movimientos migratorios

Entre el último tercio del siglo xix y 1975, España fue un país migratorio. Los emigrantes eran sobre todo jóvenes agricultores, y se dirigieron a zonas con más oportunidades de trabajo y de bienestar dentro o fuera del país. En la actualidad, los movimientos migratorios son más variados. Desde 1995, España se ha convertido en un país de inmigración, aunque, desde 2008, la entrada de inmigrantes se ha reducido debido a la crisis económica.

EVALUACIÓN EXTRAORDINARIA



ACTIVIDADES

1, Define los siguientes términos:

- Movimiento natural

.....

- Movimiento migratorio

.....

- Régimen demográfico.

.....

Los tres sectores de las actividades económicas



A. **PRIMARIO** (4,3 % población ocupada en 2012).

Actividades que se basan en la extracción de bienes y recursos procedentes del medio natural: agricultura, ganadería, silvicultura (explotación forestal) pesca, y minería. Estas actividades se realizan en las zonas rurales, marítimas y forestales normalmente alejadas de los centros urbanos

Los problemas a los que se enfrenta el sector son:

- Competitividad con países que producen más barato. Sus productos entran en nuestro país gracias a las políticas anti proteccionistas que reducen el peso de los aranceles. Esta es una de las características principales del proceso de globalización neoliberal.
- Salarios más bajos en este sector que en el resto, lo que lo hace poco atractivo.

Las actividades agrarias han transformado profundamente el medio natural y han dado lugar a paisajes agrarios diferenciados:

- El **paisaje agrario oceánico** se localiza en el norte y noroeste peninsular, en un medio físico de relieve accidentado y clima oceánico. El poblamiento es disperso y las parcelas son pequeñas, numerosas y cerradas por setos.
- El **paisaje agrario mediterráneo** se localiza al sur del clima oceánico, en las islas Baleares, en Ceuta y en Melilla, en un medio físico de relieve llano y clima mediterráneo.
- En el **interior peninsular**, el poblamiento es concentrado y las parcelas grandes; y en el litoral mediterráneo tienen más importancia el poblamiento disperso y las parcelas pequeñas.
- El **paisaje agrario de Canarias** se localiza en las islas Canarias, en un medio físico de relieve volcánico accidentado y clima subtropical. El poblamiento es disperso y las parcelas presentan marcados contrastes entre las grandes explotaciones costeras y las pequeñas explotaciones del interior.

B. **SECUNDARIO** (20% de la población ocupada en 2012).

Actividades que se basan en la transformación de los bienes y recursos extraídos del medio natural, para convertirlos en productos elaborados (industria) y actividades relacionadas con la construcción. En los países del primer mundo (desarrollados) es moderado y en decrecimiento por la mecanización y la deslocalización (traslado de industrias a países con mano de obra más barata). Aumenta en los países del tercer mundo que reciben las industrias deslocalizadas (países emergentes).

En nuestro país el sector se enfrenta a estos problemas:

- Competitividad con países que producen más barato. Sus productos entran en nuestro país gracias a las políticas anti proteccionistas que reducen el peso de los aranceles. Esta es una de las características principales del proceso de globalización neoliberal.
- Deslocalización hacia países que producen más barato y como consecuencia procesos de desindustrialización de nuestro país.
- Profunda repercusión de las crisis económicas en este sector: la de los años 70 y la actual.

Las áreas industriales

- **Madrid y Barcelona** son las principales áreas industriales de España. Ambas concentran las sedes de las grandes empresas nacionales y multinacionales, y las industrias de nuevas tecnologías.
- **Los ejes industriales**, surgidos en general a lo largo de las principales vías de comunicación, son los del Ebro y el Mediterráneo.
- **La cornisa cantábrica** es un área que ha sufrido la crisis y reconversión de sus principales sectores industriales: la siderurgia y la construcción naval.
- El **resto del territorio peninsular**, los dos archipiélagos y Ceuta y Melilla son áreas de escasa industrialización.

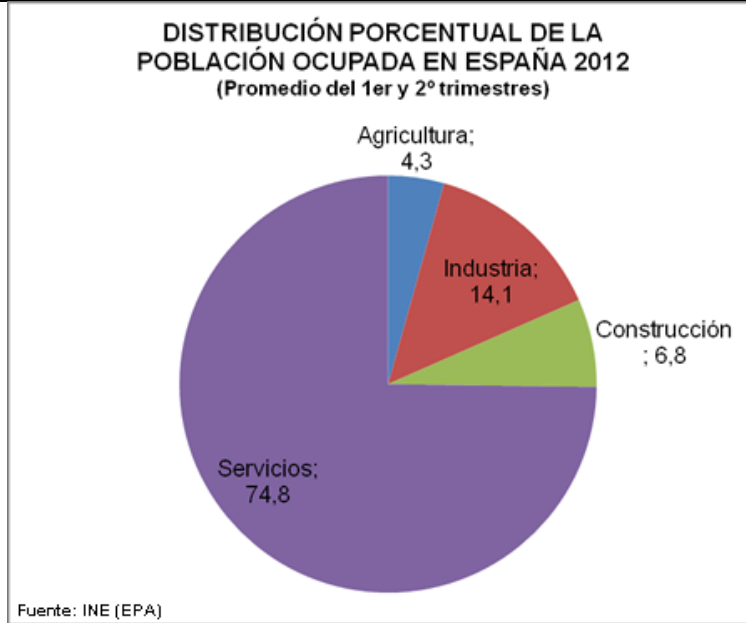
C. TERCIARIO (75% de la población ocupada en 2012).

Resto de actividades económicas que se engloban en el término “servicios”:

- Servicios de distribución de productos: comercio, hostelería, servicios de transporte de productos y personas, etc.
- Servicios financieros para empresas, Estado y particulares, como la banca.
- Servicios para empresas y para el Estado, a menudo fruto de la externalización.
- Administración pública y servicios sociales, financiados por el Estado
- Servicios personales para cubrir demandas que no implican una distribución de productos: turismo, ocio, espectáculos, reparaciones, cuidado personal...
- Algunos hablan de “cuaternario” para referirse a los servicios muy cualificados como la investigación, nuevas tecnologías, ingeniería financiera, etc.



EVALUACIÓN EXTRAORDINARIA

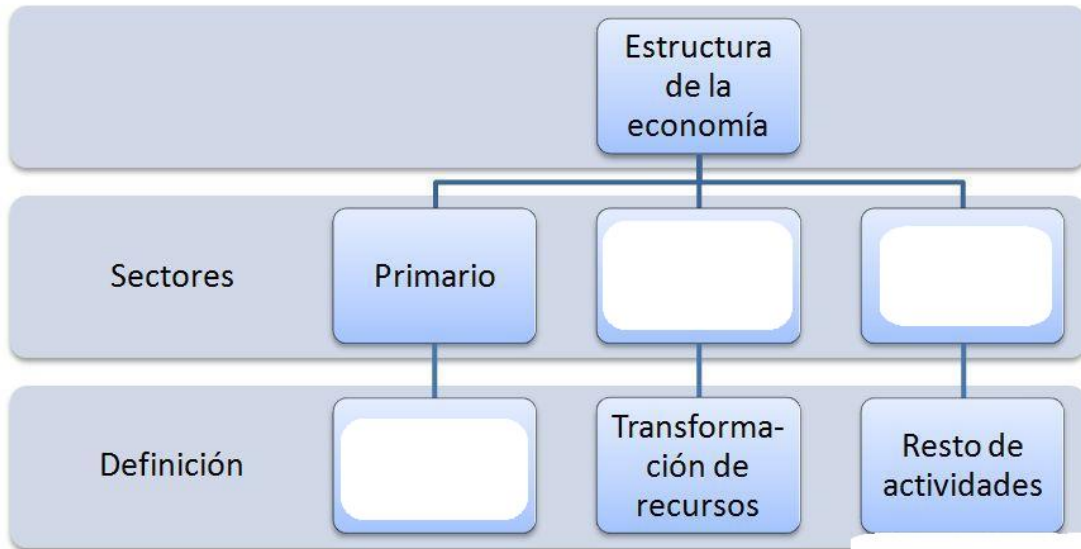


ACTIVIDADES

1. Responde brevemente.

- ¿Qué actividades engloba el sector primario?
.....
.....
- ¿Qué problemas enfrenta el sector primario?
.....
.....
- ¿Qué tipos de paisajes agrarios hay en España?
.....
.....

2. completa:



3.. Responde:

- ¿Qué sector ocupa más población en España?
.....
.....
- ¿Qué actividades incluye el sector secundario?
.....
.....
- ¿Qué es la deslocalización?
.....
.....

4. Completa huecos.

- El paisaje agrario oceánico se localiza en el y peninsular, en un medio físico de relieve y clima
- El paisaje agrario mediterráneo se localiza en la Península al del clima oceánico, en las islas, en Ceuta y en, en un medio físico de relieve y clima
- El paisaje agrario de Canarias se localiza en las islas, en un medio físico de relieve y clima

