

CURSO: 2º A

ORIENTACIONES DE TRABAJO EN CASA 20-24 ABRIL

Hola familias,

Aquí os envío las tareas de esta semana.

Animaos a hacerlas en casa, no pasa nada si no se hacen todas esta semana, pero si tenéis alguna hecha o habéis trabajado cualquier actividad o ficha en casa (aunque sea de semanas anteriores), hacédmela llegar a esta dirección de correo electrónico (puede ser una foto con el móvil):



tareasdesegundoentreculturas@gmail.com

Tanto yo como los profesores que dan clase a vuestro hijo/a recibirán en este e-mail lo que queráis mandarle, ya sean trabajos, dudas...



Espero que estéis llevando el confinamiento de la mejor manera posible, los peques están hechos unos campeones y ya queda menos para volver a la normalidad.

Os mando mucho ánimo en esta situación que estamos viviendo, un saludo para todos y muchos besos para mis alumnos/as.




Nani

Pablo coloca 8  en fila. Si quita 3, ¿cuántos  quedan en la fila?






	D	U	
Coloca →			
Quita →			
Quedan →			



► Quedan  en la fila.


En el árbol de Navidad había 5  y se colocan 7  más.
¿Cuántos  hay en total?




	D	U	
Había →			
Se colocan →			
Hay →			

► Hay  en total.

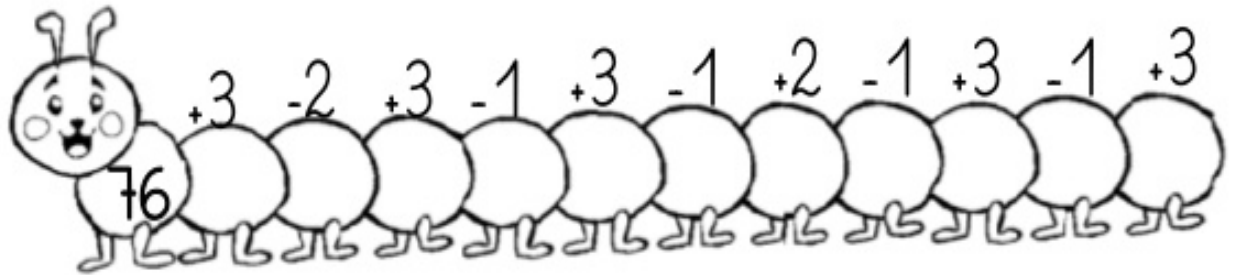
Tengo 8  y me como 3. ¿Cuántos  hay ahora?



.....  =

► Hay 

1. Cálculo mental



2. Escribe el número anterior y posterior

	54	
	23	

	12	
	89	

	91	
	76	

3. Coloca el signo $<$ $>$ $=$

54		23
----	--	----

91		76
----	--	----

60		70
----	--	----

12		89
----	--	----

59		48
----	--	----

89		98
----	--	----

4. Escribe los números del 60 al 100

60-	
-----	--

70-	
-----	--

80-	
-----	--

90-	
-----	--

5. Escribe sus nombres

82	
----	--

92	
----	--



VALOR POSICIONAL

Completa los cuadros

	D	U
24		
35		
69		
75		
44		
67		



	D	U
	1	9
	6	5
	4	7
	2	3
	3	8
	9	8

Imágenes
Educativas.com

	D	U
dieciocho		
cuarenta y dos		
treinta y nueve		
sesenta y cuatro		
veinticuatro		
noventa y cinco		

SUMAS CON LLEVADAS

Os recuerdo como hacerlas, con un vídeo y una foto explicativa:

<https://www.youtube.com/watch?v=ZVljH58vrFE>

Sumas llevando

Para sumar llevando números de dos cifras, suma primero las unidades. Después, suma las decenas teniendo en cuenta las decenas que te llevas.

1.º Suma las unidades. Como son más de 9, lleva 1 decena a su columna.

$$\begin{array}{r} \text{D} \quad \text{U} \\ 2 \quad 8 \\ + 1 \quad 5 \\ \hline \text{1} \quad 3 \end{array}$$

2.º Suma las decenas sin olvidar la decena que te llevas.

$$\begin{array}{r} \text{D} \quad \text{U} \\ \text{1} \\ 2 \quad 8 \\ + 1 \quad 5 \\ \hline 4 \quad 3 \end{array}$$

Sumas llevando. (Dos cifras. Ficha 1)



$$\begin{array}{r} 57 \\ + 43 \\ \hline \end{array}$$

$$\begin{array}{r} 55 \\ + 18 \\ \hline \end{array}$$

$$\begin{array}{r} 44 \\ + 96 \\ \hline \end{array}$$

$$\begin{array}{r} 26 \\ + 18 \\ \hline \end{array}$$

$$\begin{array}{r} 23 \\ + 48 \\ \hline \end{array}$$

$$\begin{array}{r} 37 \\ + 19 \\ \hline \end{array}$$

$$\begin{array}{r} 65 \\ + 56 \\ \hline \end{array}$$

$$\begin{array}{r} 64 \\ + 78 \\ \hline \end{array}$$

$$\begin{array}{r} 91 \\ + 19 \\ \hline \end{array}$$

$$\begin{array}{r} 23 \\ + 77 \\ \hline \end{array}$$

$$\begin{array}{r} 82 \\ + 49 \\ \hline \end{array}$$

$$\begin{array}{r} 38 \\ + 49 \\ \hline \end{array}$$

$$\begin{array}{r} 17 \\ + 18 \\ \hline \end{array}$$

$$\begin{array}{r} 35 \\ + 15 \\ \hline \end{array}$$

$$\begin{array}{r} 39 \\ + 14 \\ \hline \end{array}$$

$$\begin{array}{r} 34 \\ + 66 \\ \hline \end{array}$$