

Nombre _____ Fecha _____

RECUERDA

Para comparar números de cinco cifras, compara las decenas de millar; si son iguales, compara las unidades de millar, y sigue el mismo proceso con todas las cifras del número.

1 Lee y contesta.

- ¿Qué número es mayor, 23.678 o 32.678? ¿Por qué?

- ¿Qué número es menor, 45.094 o 40.940? ¿Por qué?

2 Compara y escribe el signo adecuado.

15.784 ○ 42.987

34.998 ○ 62.945

67.432 ○ 53.890

80.900 ○ 89.000

47.092 ○ 49.750

53.276 ○ 51.754

76.325 ○ 76.297

91.374 ○ 91.296

29.674 ○ 29.647

60.987 ○ 60.798

81.432 ○ 81.423

97.139 ○ 97.190

3 Ordena y utiliza el signo adecuado.

De menor a mayor

- 29.284, 30.482 y 18.999

- 89.741, 71.564 y 90.653

De mayor a menor

- 37.218, 72.809 y 54.275

- 63.496, 74.963 y 74.693

4 Piensa y escribe.

- Cuatro números mayores que 29.000 y menores que 29.200.

- Cuatro números comprendidos entre 60.500 y 60.540.

Nombre _____ Fecha _____


La tía de Amparo tiene un álbum con 34 fotos. La semana pasada colocó 15 fotos más y hoy ha colocado otras 17.
¿Cuántas fotos tiene en el álbum?

1. Comprende.

Pregunta: _____

Datos: _____

3. Calcula.

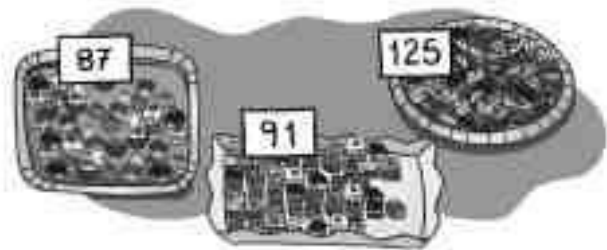


Respuesta: _____

2. Piensa qué hay que hacer.

- una suma.
- una multiplicación.
- una suma y una multiplicación.

En la pastelería *La palmera* hoy han hecho estas 3 bandejas de pasteles.
¿Cuántos pasteles han hecho en total?




1. Comprende.

Pregunta: _____

Datos: _____

3. Calcula.



Respuesta: _____

2. Piensa qué hay que hacer.

- una resta.
- una multiplicación.
- una suma.