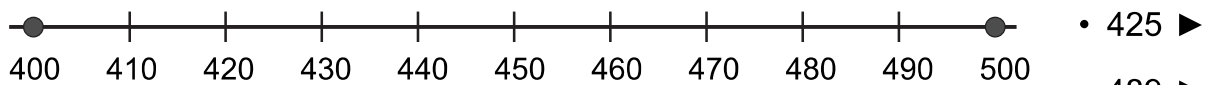


Nombre _____ Fecha _____

RECUERDA

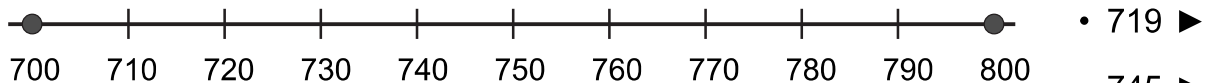
- Para aproximar un número a la centena más cercana, busca entre qué centenas está y compara su cifra de las decenas con 5.
- Para aproximar un número al millar más cercano, busca entre qué millares está y compara su cifra de las centenas con 5.

1 Ayúdate de las rectas y aproxima cada número a la centena más cercana.



• 489 ►

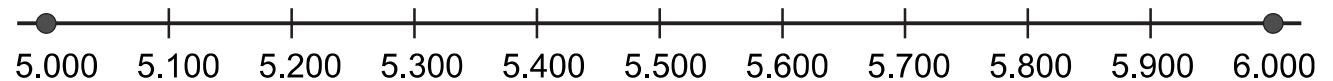
• 440 ►



• 745 ►

• 780 ►

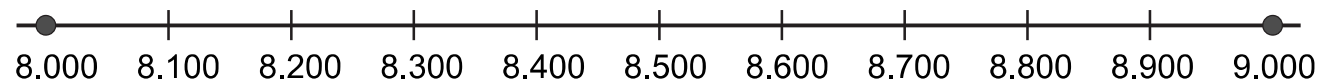
2 Aproxima cada número al millar más cercano.



• 5.750 ►

• 5.690 ►

• 5.310 ►



• 8.432 ►

• 8.690 ►

• 8.325 ►

3 Observa los precios y contesta.



• ¿Cuánto cuesta el televisor aproximadamente?

• ¿Cuál es el precio aproximado del coche?

Nombre _____ Fecha _____

• **Suma.**

$$\begin{array}{r} 18332 \\ 3825 \\ + 2235 \\ \hline \end{array}$$

$$\begin{array}{r} 12134 \\ 5764 \\ + 795 \\ \hline \end{array}$$

$$\begin{array}{r} 35004 \\ 13627 \\ + 72 \\ \hline \end{array}$$

$$\begin{array}{r} 76428 \\ 3720 \\ + 39 \\ \hline \end{array}$$

• **Resta.**

$$\begin{array}{r} 7418 \\ - 3046 \\ \hline \end{array}$$

$$\begin{array}{r} 6870 \\ - 2894 \\ \hline \end{array}$$

$$\begin{array}{r} 4527 \\ - 703 \\ \hline \end{array}$$

$$\begin{array}{r} 3000 \\ - 1560 \\ \hline \end{array}$$

$$\begin{array}{r} 4281 \\ - 2089 \\ \hline \end{array}$$

$$\begin{array}{r} 6856 \\ - 5026 \\ \hline \end{array}$$

$$\begin{array}{r} 4383 \\ - 947 \\ \hline \end{array}$$

$$\begin{array}{r} 3742 \\ - 1316 \\ \hline \end{array}$$

• **Coloca los números y calcula.**

$$8.432 + 24.615 + 484$$

$$9.729 + 42.636$$

$$54.976 + 5.384$$

$$34.000 - 12.700$$

$$56.900 - 9.280$$

$$73.500 - 999$$

• **Calcula.**

$$225 \xrightarrow{+ 150} \bigcirc \xrightarrow{- 50} \bigcirc \xrightarrow{+ 100} \bigcirc \xrightarrow{- 75} \bigcirc \xrightarrow{+ 75} \bigcirc$$

$$670 \xrightarrow{- 100} \bigcirc \xrightarrow{+ 400} \bigcirc \xrightarrow{- 150} \bigcirc \xrightarrow{+ 450} \bigcirc \xrightarrow{- 200} \bigcirc$$

