

MATEMÁTICAS 1º EP

Trabajo en casa (23-03-20 al 27-03-20)

- Libro de matemáticas.

Realizar las actividades de las páginas 48, 49, 50 y 51.

- Trabajo en el cuaderno.

Dictado de números.

Escribir el nombre de los números del 11 al 19.

- Juegos online.

- Series numéricas:

http://www.ceiploreto.es/sugerencias/A_1/Recursosdidacticos/PRIMERO/datos/02_Mates/03_Recursos/01_t/actividades/numeros/05.htm

- Completamos series de números:

<https://www.mundoprimeria.com/juegos-educativos/juegos-matematicas/series-num-1o-05>

- Comparamos números.

<https://www.mundoprimeria.com/juegos-educativos/juegos-matematicas/juego-igual-mayor-menor>

- Fichas para trabajar.

LA FRASE SECRETA

Haz las siguientes operaciones y coloca la palabra, según el resultado, en la boca del coche.

$$\begin{array}{r} 24 \\ +10 \\ \hline \end{array}$$

$$\begin{array}{r} 21 \\ +12 \\ \hline \end{array}$$

$$\begin{array}{r} 23 \\ +12 \\ \hline \end{array}$$

$$\begin{array}{r} 23 \\ +13 \\ \hline \end{array}$$

$$\begin{array}{r} 20 \\ +12 \\ \hline \end{array}$$

$$\begin{array}{r} 54 \\ +13 \\ \hline \end{array}$$

$$\begin{array}{r} 37 \\ +22 \\ \hline \end{array}$$

$$\begin{array}{r} 46 \\ +33 \\ \hline \end{array}$$

$$\begin{array}{r} 25 \\ +43 \\ \hline \end{array}$$

$$\begin{array}{r} 24 \\ +33 \\ \hline \end{array}$$

$$\begin{array}{r} 15 \\ +60 \\ \hline \end{array}$$

$$\begin{array}{r} 30 \\ +35 \\ \hline \end{array}$$

CLAVES

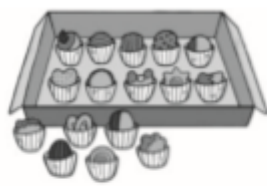
34 = Si	35 = a	68 = a
33 = vas	36 = cruzar	57 = los
32 = la	59 = mira	75 = dos
67 = calle	79 = antes	65 = lados

Copia aquí la frase

- Resta.

$\begin{array}{r} 56 \\ -35 \\ \hline \end{array}$	$\begin{array}{r} 36 \\ -24 \\ \hline \end{array}$	$\begin{array}{r} 16 \\ -14 \\ \hline \end{array}$	$\begin{array}{r} 27 \\ -15 \\ \hline \end{array}$	$\begin{array}{r} 41 \\ -20 \\ \hline \end{array}$	$\begin{array}{r} 68 \\ -37 \\ \hline \end{array}$	$\begin{array}{r} 86 \\ -53 \\ \hline \end{array}$
$\begin{array}{r} 95 \\ -41 \\ \hline \end{array}$	$\begin{array}{r} 79 \\ -51 \\ \hline \end{array}$	$\begin{array}{r} 55 \\ -43 \\ \hline \end{array}$	$\begin{array}{r} 12 \\ -10 \\ \hline \end{array}$	$\begin{array}{r} 13 \\ -11 \\ \hline \end{array}$	$\begin{array}{r} 35 \\ -12 \\ \hline \end{array}$	$\begin{array}{r} 15 \\ -13 \\ \hline \end{array}$
$\begin{array}{r} 67 \\ -31 \\ \hline \end{array}$	$\begin{array}{r} 85 \\ -42 \\ \hline \end{array}$	$\begin{array}{r} 99 \\ -37 \\ \hline \end{array}$	$\begin{array}{r} 78 \\ -37 \\ \hline \end{array}$	$\begin{array}{r} 14 \\ -12 \\ \hline \end{array}$	$\begin{array}{r} 25 \\ -21 \\ \hline \end{array}$	$\begin{array}{r} 49 \\ -37 \\ \hline \end{array}$
$\begin{array}{r} 93 \\ -71 \\ \hline \end{array}$	$\begin{array}{r} 77 \\ -62 \\ \hline \end{array}$	$\begin{array}{r} 53 \\ -31 \\ \hline \end{array}$	$\begin{array}{r} 33 \\ -22 \\ \hline \end{array}$	$\begin{array}{r} 62 \\ -10 \\ \hline \end{array}$	$\begin{array}{r} 73 \\ -30 \\ \hline \end{array}$	$\begin{array}{r} 54 \\ -41 \\ \hline \end{array}$

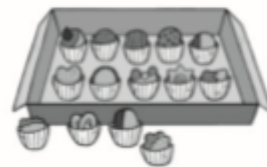
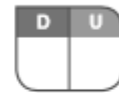
- Observa, cuenta y completa.



decena y unidades

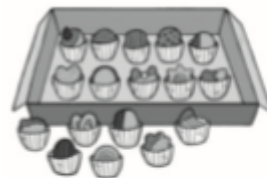
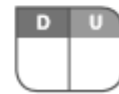
+ =

dieciséis



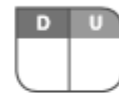
decena y unidades

+ =



decena y unidades

+ =



decena y unidades

+ =

