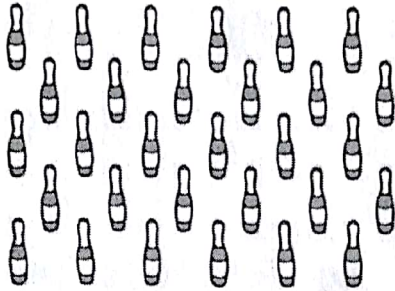





Nombre:

1. Rodea para formar grupos de 10 y completa.



Hay decenas.



Hay decenas.

2. Completa la tabla.

27 + D y U
.....	cuarenta + D y U
.....	10 + 9 D y U
..... +	5 D y 0 U

3. Resuelve estas restas.

$$\begin{array}{r} 25 \\ - 12 \\ \hline \end{array}$$

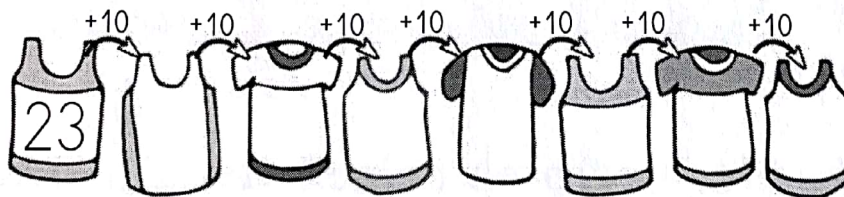
$$\begin{array}{r} 38 \\ - 27 \\ \hline \end{array}$$

$$\begin{array}{r} 49 \\ - 30 \\ \hline \end{array}$$

$$\begin{array}{r} 57 \\ - 42 \\ \hline \end{array}$$

$$\begin{array}{r} 68 \\ - 35 \\ \hline \end{array}$$

4. Sigue la serie.





Nombre:

1. Escribe con letra los números menores que 60.

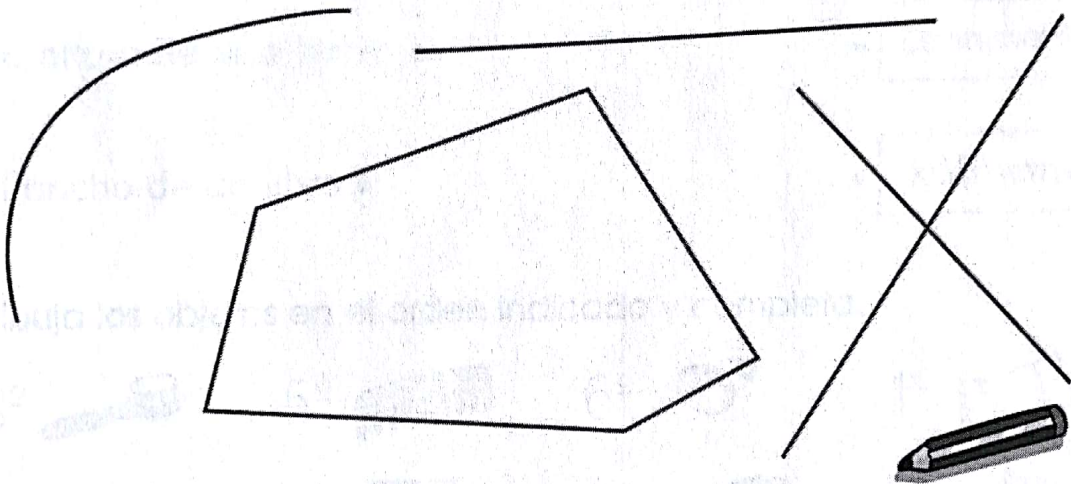
89 30 56 77 61 49

treinta,


2. Repasa según el código.

rojo → línea curva
verde → línea recta

naranja → línea poligonal
azul → punto




3. Juan tiene 19 camisetas. Si 9 de ellas son blancas, ¿cuántas son de otros colores?



Tiene camisetas.

Tiene camisetas blancas.



► Tiene camisetas de otros colores.



Nombre:

1. Resuelve y rodea los resultados que tengan 9 decenas.

$$\begin{array}{r} 173 \\ + 26 \\ \hline \end{array}$$

.....

$$\begin{array}{r} 187 \\ - 71 \\ \hline \end{array}$$

.....

$$\begin{array}{r} 167 \\ + 13 \\ \hline \end{array}$$

.....




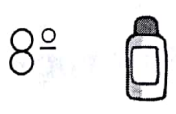
$$\begin{array}{r} 196 \\ - 105 \\ \hline \end{array}$$

.....





2. Relaciona y une con flechas.

- La distancia entre Madrid y Barcelona • metro
- La altura de una farola • centímetro
- El ancho de un libro • kilómetro

3. Dibuja los objetos en el orden indicado y completa.



primero





Nombre:

1. Completa la tabla.

201 + +
.....	200 + 50 + 7
..... + +	ciento veintiséis
35 + +

2. Resuelve y completa los términos de las operaciones.

$$\begin{array}{r} 151 \\ + 109 \\ \hline \end{array}$$

.....
.....
.....
.....

$$\begin{array}{r} 88 \\ - 49 \\ \hline \end{array}$$

.....
.....
.....
.....

3. Sigue las indicaciones para salir del laberinto.

- 2 derecha
- 3 abajo
- 1 izquierda
- 2 abajo
- 5 derecha
- 1 arriba
- 4 derecha

