

FICHA 4

SABER HACER

Comprobar los zumos de un pedido

Julio carga en la furgoneta los zumos que tiene que llevar a un colegio. Mira en la tabla cuántos zumos debe coger de cada sabor y tamaño.

	Naranja	Manzana
Grandes	376	164
Pequeños	213	287



1 Busca los datos en la tabla y calcula.

- ¿Cuántos zumos cogerá de cada sabor?



Escribe el resultado en letra.

Naranja



Manzana



De naranja ▶

De manzana ▶

- ¿Cuántos zumos de naranja cogerá pequeños menos que grandes?



*Cogerá*

- ¿Cuántos zumos grandes cogerá de naranja más que de manzana?



FICHA 5

REPASO

1 Escribe el número y su descomposición en forma de suma.

- Ochenta y siete ▶  $\square = \square + \square$
- Ciento treinta y cinco ▶  $\square = \square + \square + \square$
- Trescientos sesenta ▶  $\square = \square + \square$
- Cuatrocientos nueve ▶  $\square = \square + \square$
- Quinientos veintiocho ▶  $\square = \square + \square + \square$

2 Calcula, mira el resultado y colorea las tapas.

$$\begin{array}{r} 58 \\ + 26 \\ \hline \end{array}$$

$$\begin{array}{r} 91 \\ - 46 \\ \hline \end{array}$$

$$\begin{array}{r} 54 \\ - 7 \\ \hline \end{array}$$

$$\begin{array}{r} 453 \\ + 341 \\ \hline \end{array}$$

$$\begin{array}{r} 879 \\ - 453 \\ \hline \end{array}$$

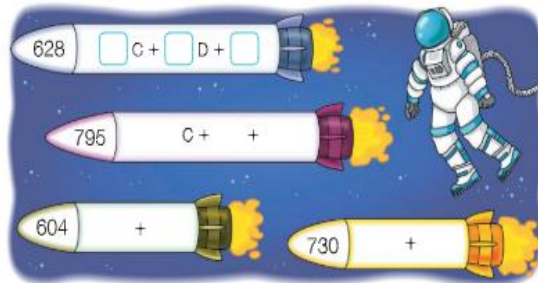
$$\begin{array}{r} 37 \\ 45 \\ + 12 \\ \hline \end{array}$$

$$\begin{array}{r} 359 \\ + 54 \\ \hline \end{array}$$

■ Tiene 4 unidades.  
■ Tiene 4 decenas.  
■ Tiene 4 centenas.

Números del 600 al 799

1 Descompón el número de cada cohete.



2 Dibuja el camino que sigue cada cohete y colorea su planeta.



• Escribe cómo se lee el número de cada planeta.

3 Compara los números y escribe el signo > o <.

- 549  571    687  734    462  399  
 408  326    275  278    627  650  
 754  752    613  596

4 Ordena los números de cada grupo.

• De mayor a menor.

538 714 690

437 734 743

615 651 561 516

• De menor a mayor.


617 630 395

579 601 590

582 739 587 726

5 Escribe un número y cómo se lee.

- 699 <
- 608 >
- 749 <  < 753
- 682 >  > 678



### Restas llevando

1 Calcula estas restas.

$$\begin{array}{r} 539 \\ -264 \\ \hline \end{array}$$

$$\begin{array}{r} 482 \\ -153 \\ \hline \end{array}$$

$$\begin{array}{r} 716 \\ -82 \\ \hline \end{array}$$

$$\begin{array}{r} 327 \\ -149 \\ \hline \end{array}$$

$$\begin{array}{r} 705 \\ -327 \\ \hline \end{array}$$

$$\begin{array}{r} 251 \\ -64 \\ \hline \end{array}$$

2 Coloca los números y calcula. Después, une cada resta con su resultado.

795 - 472 •

• 314

583 - 269 •


• 321

601 - 258 •

• 323

418 - 97 •

• 343



¿En qué resta te has llevado 1 decena y 1 centena? Rodéala.

12 doce

3 Calcula las restas. Después, comprueba que están bien hechas.

$$\begin{array}{r} 617 \\ -253 \\ \hline \end{array}$$



$$\begin{array}{r} 534 \\ -186 \\ \hline \end{array}$$



4 Observa los números y calcula las restas.



$\begin{array}{r} \text{432} \\ - \end{array}$ 
 $\begin{array}{r} \text{587} \\ - \end{array}$ 
 $\begin{array}{r} \text{691} \\ - \end{array}$ 
 $\begin{array}{r} \text{704} \\ - \end{array}$

5 Elige el sustraendo de cada resta, escríbelo y calcula.



Resta llevando una vez

$$\begin{array}{r} 753 \\ - \square \\ \hline \square \end{array}$$

Resta llevando dos veces

$$\begin{array}{r} 753 \\ - \square \\ \hline \square \end{array}$$

trece 13