

MATEMÁTICAS 1º EP

Trabajo en casa (30-03-2020 al 03-04-2020)

¡Hola, familias!

¿Cómo lleváis la cuarentena?

¡Espero que estéis todos genial!

Aquí os dejo las tareas para esta semana

¡Un saludo afectuoso!

La tutora

- Libro de matemáticas.

Realizar las actividades de las páginas 52 y 53.

- Trabajo en el cuaderno.

- Escribamos los números del 0 al 29 completando este cuadro numérico.

		2				6			9
	11			14					
20					25				29

- Copiamos en el cuaderno el nombre de estos números:

20	Veinte
21	Veintiuno
22	Veintidós
23	Veintitrés
24	Veinticuatro

25	Veinticinco
26	Veintiséis
27	Veintisiete
28	Veintiocho
29	Veintinueve

- Descomponemos en **D**ecenas y **U**nidades.

20=	2 decenas y 0 unidades
21=	
22=	
23=	
24=	

25=	2 decenas y 5 unidades
26=	
27=	
28=	
29=	

- Escribimos el número anterior y el posterior.

	26	
	20	
	24	

	22	
	23	
	21	

	27	
	25	
	28	

- Ordenamos de mayor a menor.

22	-	29	-	20	-	25	-	28	-	21	-	23	-	24	-	26	-	27
----	---	----	---	----	---	----	---	----	---	----	---	----	---	----	---	----	---	----

	>		>		>		>		>		>		>		>		>	
--	---	--	---	--	---	--	---	--	---	--	---	--	---	--	---	--	---	--

- Rodeamos en cada caso, el número **mayor** en **rojo** y el número **menor** en **azul**.

A)

22	9	14	23	25
----	---	----	----	----

B)

22	28	20	21	27
----	----	----	----	----

● Juegos online.

- Pinchamos en el enlace y resolvemos problemas:

http://www.ceiploreto.es/sugerencias/ceipchanopinheiro/1/problemas_6_1/pro6.html

- Jugamos utilizando los conceptos espaciales:

<http://ares.cnice.mec.es/edufisica/b/02/index.html>

- Sumamos aquí:

http://www.crienaturavila.com/crie_httpdocs/mate/suma02.html

- Restamos aquí:

http://www.crienaturavila.com/crie_httpdocs/mate/resta02.html

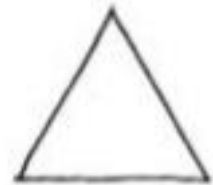



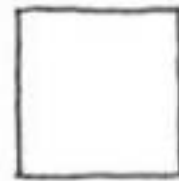


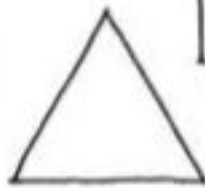
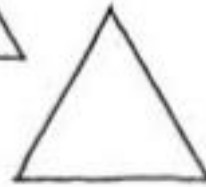
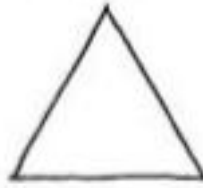




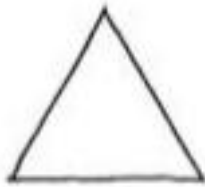
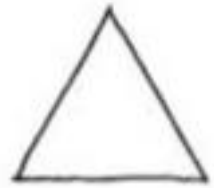




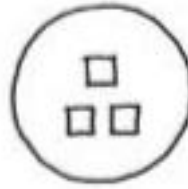
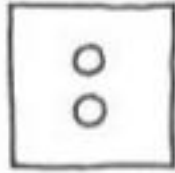
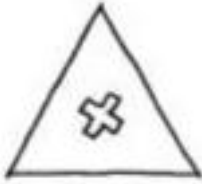
● Fichas para jugar

- Aquí os dejo dos fichas.

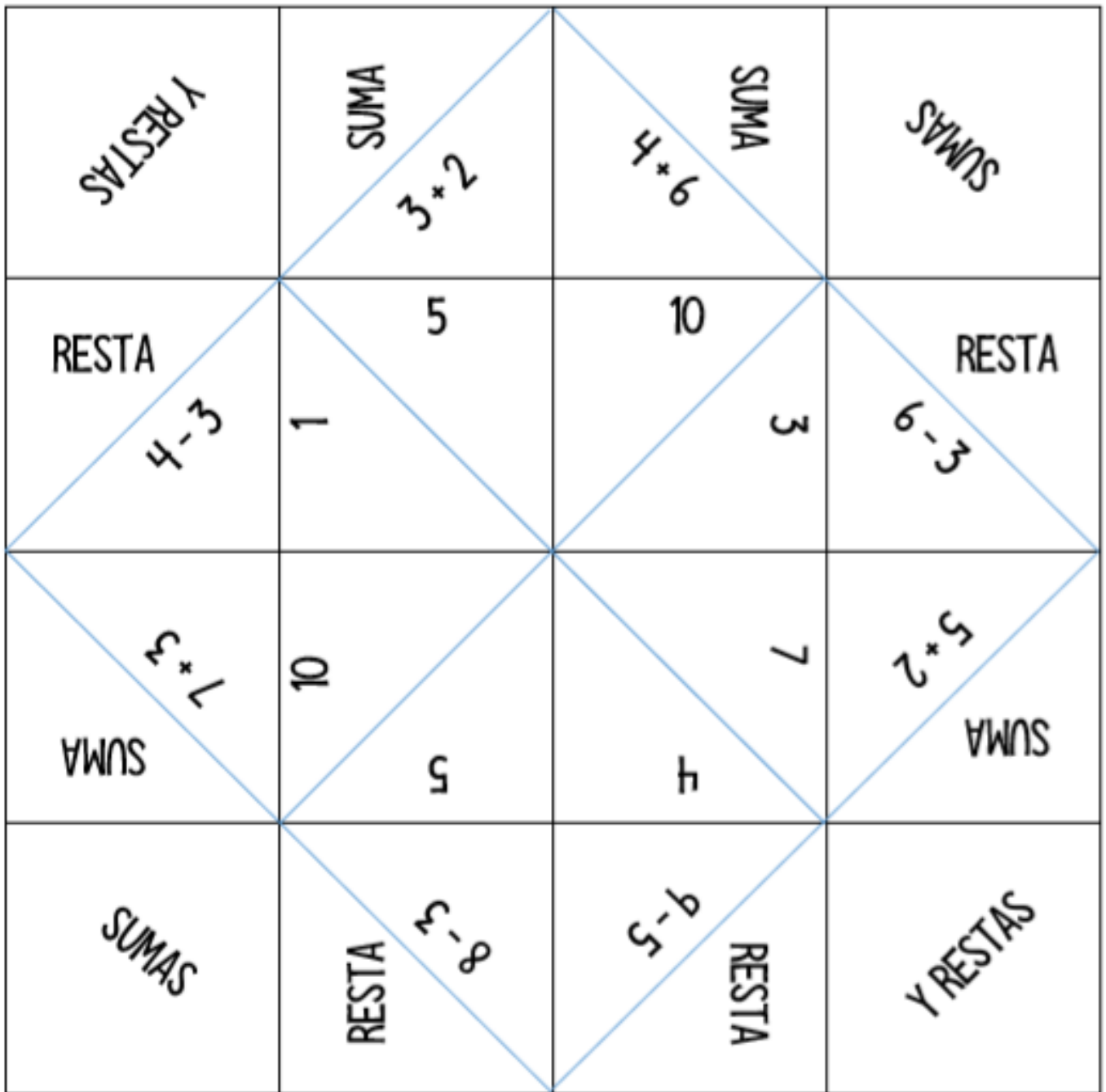
En la primera debéis estar muy atentos para no equivocaros.

La segunda es para construir un comecocos de sumas y restas para jugar con vuestra familia.

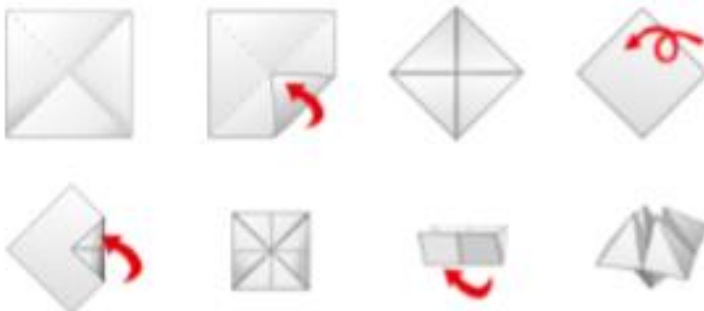
1ª) Fíjate en las marcas que tienen las figuras de la fila de arriba y dibújalas en las figuras de abajo.



2ª) Construye este comecocos de sumas y restas.



MONTAJE



1. Doblamos por la diagonal primero de por una y luego por la otra. En el papel tiene que quedar marcada una X.
2. Llevamos una de las esquinas al centro.
3. Repetimos con las otras tres.
4. Volteamos la figura.
5. Hacemos lo mismo que en el paso 2. Llevamos una de las esquinas al centro.
6. Repetimos con las 4 puntas.
7. Doblamos por la mitad para marcarlo y poder manipularlo mejor.
8. ¡LISTO! Mete los dedos en los agujeros y ya tienes tu comecocos.