

SOLUCIONES MATEMÁTICAS 1º EP (14-17 DE ABRIL)

¡Hola, familias!

Estas son las soluciones de esta semana.

Un saludo a todos.




La tutora

- Libro de matemáticas.

Pienso y resuelvo

1 **Aprende.** Lee y rodea las respuestas.

La semana tiene 7 días.

- ¿Qué día es hoy? 
- ¿Qué día fue ayer? 
- ¿Qué día será mañana? 

R. M.




2 **Completa.**

 ayer	 hoy	 mañana
 martes	 miércoles	 jueves
 sábado	 domingo	 lunes

Inteligencia lingüística

3 **Razonamiento.** Observa y rodea la hoja del calendario correspondiente al día siguiente.



Problemas de suma

1 Lee y resuelve.

- Paco dibuja 5 tarjetas grandes y 2 pequeñas.
¿Cuántas tarjetas dibuja en total?

$$\begin{array}{r} \text{grandes} \rightarrow 5 \\ \text{pequeñas} \rightarrow + 2 \\ \hline \text{en total} \rightarrow 7 \end{array}$$



Dibuja 7 tarjetas.

- Había 8 pandorotas y Rubén trae 6.
¿Cuántas pandorotas hay ahora?

$$\begin{array}{r} \text{había} \rightarrow 8 \\ \text{trae} \rightarrow + 6 \\ \hline \text{ahora hay} \rightarrow 14 \end{array}$$



Hay 14 pandorotas.

- En el árbol había 14 bolas y Ana pone 3.
¿Cuántas bolas hay ahora?

$$\begin{array}{r} \text{había} \quad \text{pone} \quad \text{ahora hay} \\ \downarrow \quad \downarrow \quad \downarrow \\ 14 + 3 = 17 \end{array}$$



Hay 17 bolas.

2 Calculo qué regalos puedo comprar

Tienes 10 euros y quieres comprar dos de estos regalos.



1 ¿Cuánto cuestan? Calcula.



$$3 + 6 = 9$$

Cuestan 9 euros.



$$\begin{array}{r} 3 \\ + 9 \\ \hline 12 \end{array}$$

Cuestan 12 euros.



$$\begin{array}{r} 9 \\ + 6 \\ \hline 15 \end{array}$$

Cuestan 15 euros.

2 ¿Qué dos regalos puedes comprar? Escribe.

La pelota y el libro.

3 ¿A quién te gustaría regalárselos? Piensa y escribe.

R.L. (respuesta libre)

Inteligencia
Intrapersonal

- 1 ¿Qué días de la semana no vas al colegio? Escribe.

Fin de semana

El sábado y el domingo.

- 2 Escribe los números que faltan.



- 3 Escribe el número.

7 unidades \rightarrow $\boxed{7}$ 1 decena y 3 unidades \rightarrow $\boxed{13}$

1 decena \rightarrow $\boxed{10}$ 1 decena y 8 unidades \rightarrow $\boxed{18}$



- 4 Completa.

$$5 + 2 = \boxed{7}$$

$$9 + 8 = \boxed{17}$$

$$13 + 4 = \boxed{17}$$

Para restar,
utiliza fichas.



$$6 - 2 = \boxed{4}$$

$$8 - 5 = \boxed{3}$$

- 5 Colorea del mismo color los dos números cuya suma es el número del centro.



- 6 Lee, dibuja y calcula.

En el balón había 7 ovejitas. Eva quita 3.
¿Cuántas ovejitas quedan?



R. G.: dibujar hasta siete
ovejitas y tachar tres

$$\begin{array}{r} \text{había} \rightarrow \boxed{7} \\ \text{quita} \rightarrow \ominus \boxed{3} \\ \hline \text{quedan} \rightarrow \boxed{4} \end{array}$$

Quedan $\boxed{4}$ ovejitas.

- 7 Piensa y completa.

Manuel cumple hoy 7 años.

• Ayer tenía $\boxed{6}$ años.

• Mañana tendrá $\boxed{7}$ años.

• El año que viene cumplirá $\boxed{8}$ años.

